

1.º/2.º Anos

Nuno da Câmara Manoel

# SABE+

## TEMPO E DINHEIRO



DE ACORDO  
COM AS  
APRENDIZAGENS  
ESSENCIAIS

# Índice

Dias da semana .....	2
Meses do ano .....	6
Estado do tempo .....	12
Horas .....	14
Dinheiro .....	22
Soluções .....	38



# Dias da semana

1. Escreve pela ordem correta os dias da semana indicados abaixo.



sábado



segunda-feira

terça-feira

quarta-feira

sexta-feira

quinta-feira

domingo

1.º dia: d.....

5.º dia: .....

2.º dia: .....

6.º dia: .....

3.º dia: .....

7.º dia: .....

4.º dia: .....

2. Escreve dentro de cada quadrado os dias da semana que começam pela letra indicada. Segue o exemplo.



**3. Completa** as frases seguintes.

Uma semana tem ..... dias.

Os dias em que não vais à escola são: ..... e .....

Estes dias correspondem ao fim de semana.

O dia da semana que menos gostas é .....

**4.** Que dia da semana é hoje? **Pinta** a respetiva caixa com a cor **azul**.

O António disse que faltam três dias para fazer anos. **Pinta** de **vermelho** o dia da semana em que o António faz anos.

domingo

segunda-feira

terça-feira

quarta-feira

quinta-feira

sexta-feira

sábado



## 5. Pinta:

5.1 o primeiro e o último dia da semana.



domingo



segunda-feira



terça-feira



quarta-feira



quinta-feira



sexta-feira



sábado

5.2 os dias da semana em que vais à escola.



domingo



segunda-feira



terça-feira



quarta-feira



quinta-feira



sexta-feira



sábado

5.3 os dias da semana em que não vais à escola.



domingo



segunda-feira



terça-feira



quarta-feira



quinta-feira



sexta-feira










sábado

## 6. Preenche a tabela com os dias da semana.

Ontem	Hoje	Amanhã
	segunda-feira	
	domingo	
	sexta-feira	
terça-feira		
		quarta-feira
quarta-feira		
		domingo

7. A Leonor gosta muito de fruta e resolveu comer frutos diferentes todos os dias. **Observa** os frutos que ela comeu ao longo da semana.

1.º dia	2.º dia	3.º dia	4.º dia	5.º dia	6.º dia	7.º dia
DOM.	SEG.	TER.	QUA.	QUI.	SEX.	SÁB.
						

7.1 Pinta de **verde** o primeiro dia da semana.

7.2 Pinta de **amarelo** o último dia da semana.


7.3 Indica em que dia da semana a Leonor comeu:

morangos ..... laranjas .....  
 maçãs ..... pêsegos .....  
 bananas ..... peras .....  
 uvas .....


8. A galinha Joaquina põe um ovo todos os dias da semana.

Quantos ovos a galinha Joaquina põe ao fim de duas semanas?

R.: .....



9. O avô Zacarias apanha mirtilos do seu quintal de dois em dois dias. Sabendo que apanhou mirtilos no domingo, **pinta** os dias da semana em que irá novamente apanhar mirtilos.

DOM.	SEG.	TER.	QUA.	QUI.	SEX.	SÁB.
						

# SABE+

**SABE +** é a coleção indispensável para o reforço das aprendizagens essenciais no 1.º Ciclo. Para um estudo autónomo ou acompanhado, em casa ou na sala de aula, esta coleção é fundamental na **promoção de hábitos de estudo** ao longo do ano, permitindo a **revisão de conteúdos**, o **esclarecimento de dúvidas** e a **consolidação dos conhecimentos adquiridos**.



Este livro contém resumos, exercícios de aplicação e problemas para treinar as noções de tempo e de dinheiro. Estes temas matemáticos são importantes e transversais a vários níveis de ensino, levantando, frequentemente, dúvidas aos alunos. Inclui soluções de todas as atividades propostas.



DE ACORDO  
COM AS  
APRENDIZAGENS  
ESSENCIAIS

Desta  
coleção:



descobre aprende voa

Editamos livros de apoio escolar para uma aprendizagem autónoma e estimulante, com rigor científico e garantia de sucesso.

ISBN 978-989-564-293-9



9 789895 642939

